

JAK ŽILI LIDÉ VE STŘEDOVĚKU

1. Ve středověku se lidé žijící na vesnici živili zemědělstvím. Škrtněte zemědělskou plodinu, která se u nás ve středověku nemohla pěstovat. K plodinám dopište názvy. Přesmyčky vám napoví.



LÍOBI –




KÁM –



PAŘE –



NEL –

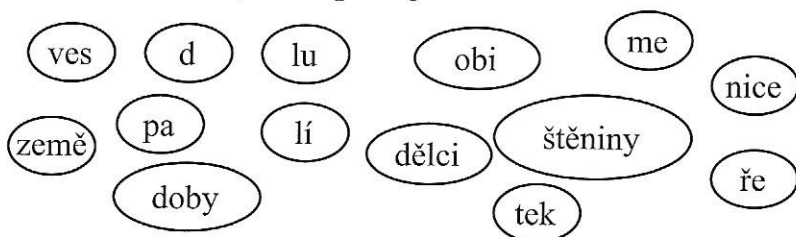


RANČPOME –



CHÁRH –

2. Části slov v oválech týkající se života venkovských lidí ve středověku spojte ve slova, která budou dávat smysl. Napište je.




3. Prohlédněte si obrázek středověkého města a odpovězte na otázky.

a) Které stavby jsou nejvyšší?

b) Je město nějak chráněno před útočníky?

c) Kudy se do města vcházelo?



4. a) Poznáte podle toho, co o sobě řemeslníci říkají, jakým řemeslům se věnují? Napište název řemesla.

melu 

jsem _____

peču 

jsem _____

šiju 

jsem _____

vyrábím 

jsem _____

b) Představte si, že vlastníte řemeslnickou dílnu. Aby lidé poznali, co vyrábíte, nakreslete znak na vývěsní štít na svém domě.

11. ŽIVOT VE STŘEDOVĚKU

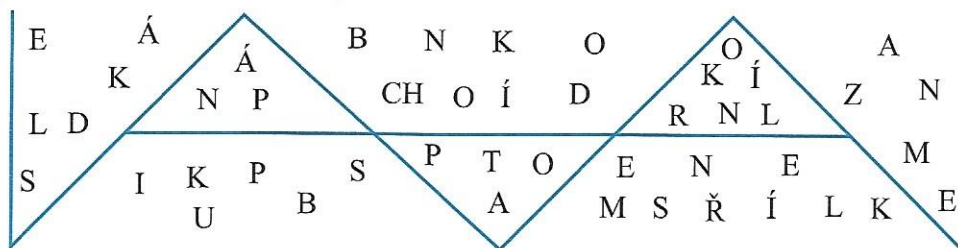
Už víme, že:

Ve středověku byli lidé rozděleni do **společenských vrstev**. Podle toho pak vypadal jejich život. Architekturu a výtvarné umění, sochařství a literaturu ovlivňovala rytířská kultura a gotický sloh.

Badatelský úkol:

- Najděte ve svém okolí středověkou památku – zdokumentujte ji kresbou, fotografií, pohlednicí.

1. **Spojte písmena ve slova a vybarvěte odlišnými barvami příslušníky šlechty, církevní hodnostáře, městské obyvatelstvo a venkovské obyvatele.**



2. **Vyznačte správnou odpověď. Z písmen u správných odpovědí složte tajenku.**

Nejbohatší šlechta žila v:

- G. hradech H. zámcích

Ve středověkých tvrzích žili:

- O. zemané A. mniši

Venkované, kteří nevlastnili žádné pozemky, se nazývali:

- P. bezpozemci T. bezzemci

Středověké řemeslnické dílny byly označeny:


- I. vývěsními štíty J. nápisy

Středověká města dosáhla největšího rozkvětu za vlády:

- L. Zikmunda K. Karla IV.

Kolovrat sloužil k:

- A. předení O. hraní



Tajenka: Umělecký sloh rozšířený ve 14. století: _____.

3. **Doplňte s pomocí nápovědy.**

Vesnice bývaly _____ než dnes. Hlavní skupinou venkovského obyvatelstva byli _____.


Nejbohatšími obyvateli měst byli _____. Početnější, ale chudší skupinou obyvatelstva

ve městech byli _____. Nejvyšší postavení ve středověké společnosti (hned po


panovníkovi) měla _____. Nejbohatší šlechta zvaná _____ sídlila

v mohutných _____.

(Nápověda: menší, řemeslníci, obchodníci, šlechta, pán, poddaní, hradech)



Která cesta vede k hrobce s mumiemi?
 Jdi po kamenech s čísly z násobilky 3 a vybarvi je.
 Potom správnou cestu uvidíš.



K hrobce vede
 cesta _____.



Příklad:
 Začni u jednotek a sčítej zdola
 nahoru.

$$\begin{array}{r}
 2 \\
 4 \\
 8 \\
 3 \\
 + \\
 7 \\
 8 \\
 3 \\
 1 \\
 \hline
 2 \\
 7 \\
 3 \\
 6 \\
 0
 \end{array}$$

přenos

V čarodějnické kucharce je recept na jídlo, do kterého se přidává jedovatá rostlina. Jestli chceš vědět, která to je, vypočítej příklady. Potom výsledky příkladů seřaď na zvláštním papíře od nejmenšího k největšímu a připiš k nim čísla příkladů. Nakonec už jenom ke každému číslu příkladu přiřaď písmeno ze záložky a název jedovaté rostliny už pro tebe nebude tajemstvím.

$$\begin{array}{r}
 1 \\
 4 \\
 3 \\
 5 \\
 + \\
 6 \\
 2 \\
 1
 \end{array}$$

$$\begin{array}{r}
 3 \\
 3 \\
 0 \\
 5 \\
 + \\
 9 \\
 0 \\
 8
 \end{array}$$

$$\begin{array}{r}
 5 \\
 1 \\
 1 \\
 9 \\
 + \\
 6 \\
 0 \\
 6
 \end{array}$$

1=N
 2=U
 3=A
 4=M
 5=D
 6=R

$$\begin{array}{r}
 2 \\
 1 \\
 3 \\
 2 \\
 + \\
 2 \\
 7 \\
 2
 \end{array}$$

$$\begin{array}{r}
 4 \\
 1 \\
 8 \\
 3 \\
 + \\
 7 \\
 8 \\
 4
 \end{array}$$

$$\begin{array}{r}
 6 \\
 1 \\
 3 \\
 1 \\
 + \\
 8 \\
 0 \\
 6
 \end{array}$$

Jedovatá rostlina
 se jmenuje

