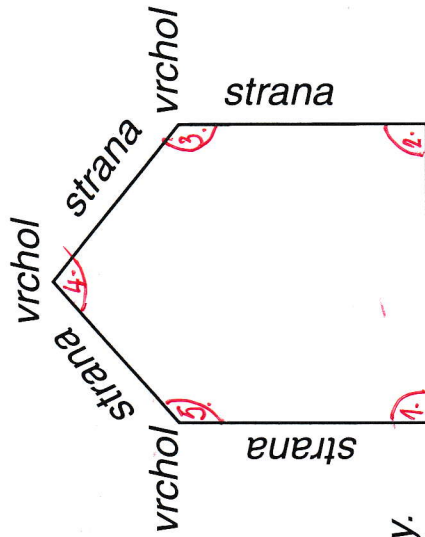
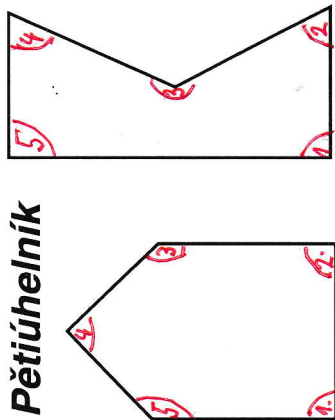
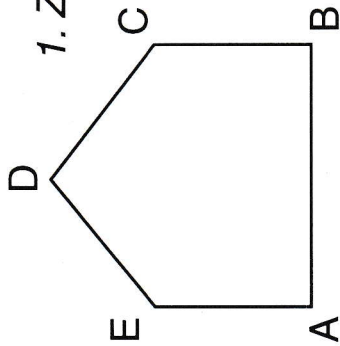


Pětúhelník



Strany obrazců jsou úsečky.



1. Změř a zapiš délku v centimetrech.


- IAI = _____ cm
- IBI = _____ cm
- ICD = _____ cm
- IDEI = _____ cm
- IEAI = _____ cm

2. Pojmenuj jednotlivé útvary. Spoj čarou se správným názvem.

trojúhelník

čtverec

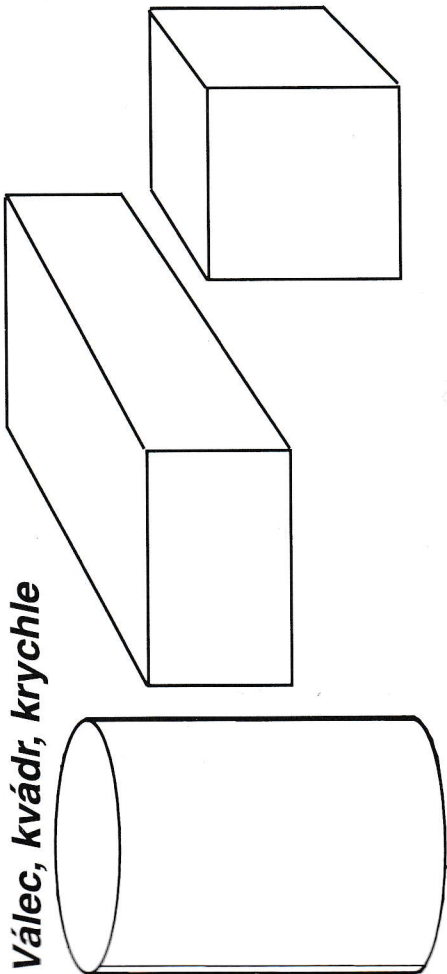
obdélník



pětúhelník

čtýřúhelník

Válec, kvádr, krychle



- Válec - plechovka na čaj, _____
- Kvádr - krabice na boty, _____
- Krychle - dlažební kostka, _____

1. Z kolika krychlí se skládá každá z těchto staveb?

(Postav ze stavebnice.) **NAPIS VÍ ČÍSLICI KE KAŽDÉ STAVBĚ**

