

Spolková republika Německo (Německo) – evropská velmoc

Na západě Česká republika sousedí se Spolkovou republikou Německo.



Státní vlajka Německa

Na konci druhé světové války (v roce 1945) bylo Německo rozděleno na dva státy: na takzvané „východní“ a „západní“ Německo. V roce 1990 se tyto dva státy spojily v jeden velký stát – Německo.

Obyvatelstvo: Žije zde přes 80 milionů obyvatel. Německo je druhým nejlidnatějším státem Evropy.

Hlavní město: Berlín. (Berlín je zároveň jednou ze 16 spolkových zemí Německa.)

Další velká města: Hamburk, Mnichov, Kolín nad Rýnem, Frankfurt nad Mohanem, Drážďany.

Povrch: Jižní část území je převážně hornatá (velehory Alpy). Nížinný povrch na severu umožnil budování říčních průplavů. (Průplavy propojují německé řeky vytvářejí delší cestu pro říční dopravu).

Vodstvo: Na řece Labi leží Drážďany a v jeho ústí do Severního moře město Hamburk, největší německý přístav.

Na řece Mohan, která vtéká do Rýna, je Frankfurt nad Mohanem s největším letištěm v zemi.

Velké letiště najdeme také v největším městě na jihu republiky v Mnichově.



Spolková republika Německo (Německo)



- Se kterými zeměmi Německo sousedí?
- O kolik metrů je nejvyšší vrchol Německa (Zugspitze, 2963 m n. m.) vyšší než naše nejvyšší hora?
- Které řeky ústí na území Německa do Severního moře?
- Pokuste se vysvětlit, co způsobilo, že na severu Německa vznikla jezera.
- Zjistěte, zda je možno proplout dopravními loděmi ze Severního do Černého moře.

Pro zvidavé:

Podle atlasu dopište české názvy německých měst a zjistěte správnou výslovnost jejich německých názvů: Berlin, München, Dresden, Frankfurt am Main, Nürnberg, Hamburg, Leipzig, Köln am Rhein.

Zemědělství: Zemědělci pěstují **chmel, brambory, obiloviny, ovoce a zeleninu**. V údolí Rýna a jeho přítoků se daří **vinné révě**. Řada potravin se však musí do Německa dovážet z jiných zemí.

Průmysl: Německo je **hospodářsky nejsilnějším evropským státem**. Z **nerostných surovin** se zde těží **hnědé a černé uhlí a draselné soli**. Všestranně rozvinutý průmysl musí mnoho surovin dovážet.

Většina průmyslových závodů se nachází v západní části země. Německo je na světových trzích proslulé výrobou **dopravních prostředků (auta, lodě, letadla)** a **chemických výrobků**. Podobně jako u nás je zde hodně rozšířena **výroba piva**.

Spolková republika Německo, velmoc ovlivňující vývoj hospodářství a politiky v Evropě, je významným členem **NATO** a **EU**.

Vysoká životní úroveň obyvatel Německa láká do země mnoho cizinců, takže dnes žije ve Spolkové republice Německo asi šest milionů obyvatel, kteří pocházejí z jiných zemí.




V novinách se objevila zpráva: „...výdaje Němců jsou v cizině třikrát vyšší než příjmy, které získává Německo z cestovního ruchu.“ Dovedete ji vysvětlit?



Zahrajte si na cestovatele, který cestuje autem do Německa. S pomocí Školního atlasu Evropy si naplánujte trasu, kterou se vypravíte. Popište, která města po cestě navštívíte. Zdůvodněte proč.



Berlín – Braniborská brána, symbol města.



Kolín nad Rýnem, jedno z největších německých měst.



Zkuste přeložit německé názvy: Deutschland, Bundes Republik Deutschland.

Už víme, že:

Německo je **hospodářsky nejsilnějším evropským státem**. Žije zde **přes 80 milionů obyvatel**. Povrch Německa je **převážně nížinný**. Hlavním městem je **Berlín**.

Zopakujte si ve skupinách

S pomocí mapy a učebnice vypište:

1. skupina – Velká německá města a podle mapy zjistěte, které řeky jimi protékají.
2. skupina – Největší řeky protékající územím Německa a podle mapy sledujte jejich tok od pramene až k ústí.
3. skupina – Velká německá města a zjistěte, které z nich je hlavní, které je největším přístavem Německa, kde se nachází největší letiště.
4. skupina – Nerostné suroviny země a výrobky, které se uplatňují na světových trzích. Jak byste charakterizovali hospodářství Německa?

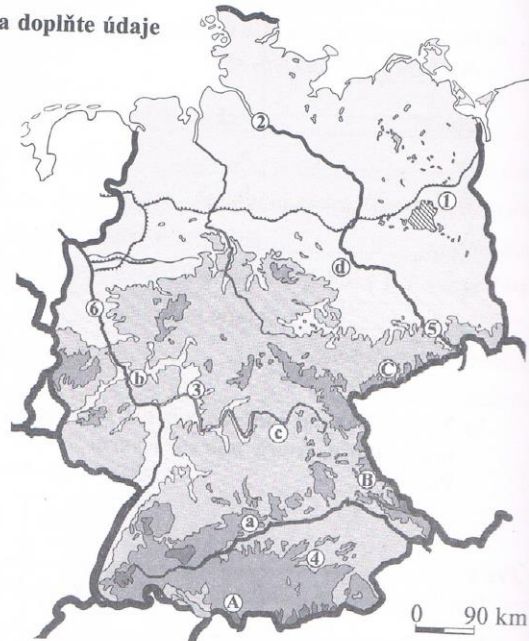
PS, str. 38

NĚMECKO

1. a) Do mapy dopište názvy sousedních států a doplňte údaje označené písmeny nebo čísly.

Pracujte s učebnicí, str. 50.

- | | |
|---------|---------|
| Pohoří: | Města: |
| A _____ | 1 _____ |
| B _____ | 2 _____ |
| C _____ | 3 _____ |
| Řeky: | 4 _____ |
| a _____ | 5 _____ |
| b _____ | 6 _____ |
| c _____ | |
| d _____ | |



b) Modře vyznačte mořské pobřeží. Dopíšte názvy moří, která oblévají severní část Německa.

2. Doplňte, nebo vyberte jednu z možností.

Pracujte s učebnicí, str. 50.

S Německem sousedíme na (západě – východě).

Úředním jazykem je _____.

Stejně jako v Polsku se zde na severu území rozkládají _____, jih území je hornatý.

Z České republiky teče přes Německo řeka _____. Nejprůmyslovější oblastí


protéká řeka _____. Obě se vlévají do _____ moře. Na jihu je největším

vodním tokem _____. Největší řeky jsou propojeny říčními _____.

Německo má bohaté zásoby _____ a _____, nejvýznamnější je průmysl _____.

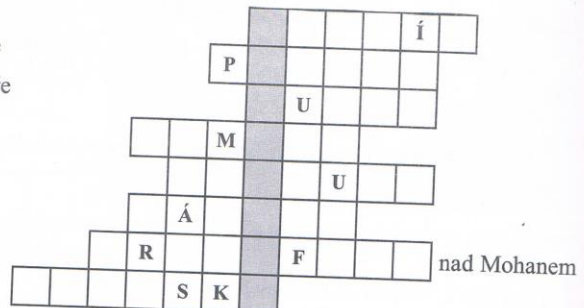
_____ . Zemědělci pěstují _____.

Vybarvte vlajku Německa:



3. Křížovka. Pracujte s učebnicí, str. 50, v bodech 3 a 8 s přílohou mapou z učebnice.

- Hlavní město Německa
- Název státu, odkud je do Berlína nejbliže
- Řeka tekoucí z Německa do Černého moře
- Pohoří na hranicích ČR a Německa
- Největší německý přístav na Labi
- Severní soused Německa
- Město s největším letištěm v Německu
- Moře ležící mezi Německem a Švédskem



Tajenka: Alpské jezero ležící na pomezí Německa, Rakouska a Švýcarska: _____.