

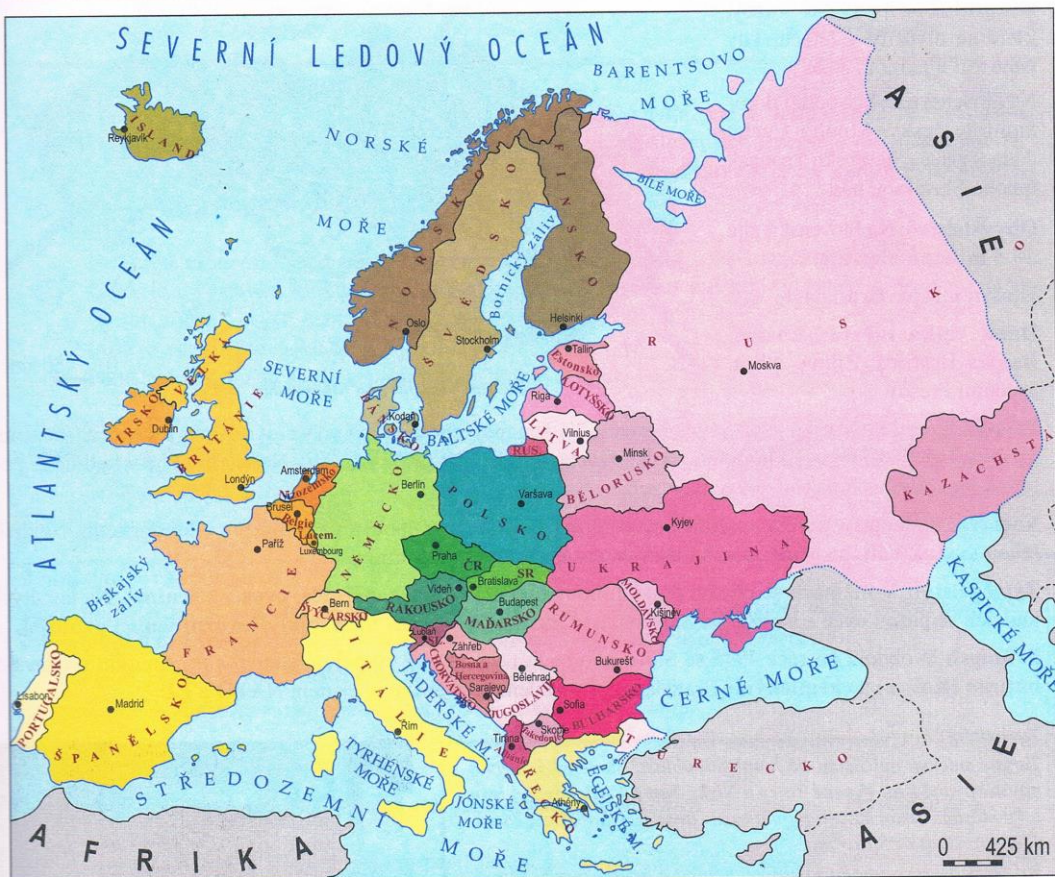
EVROPA – SJEDNOCUJÍCÍ SE SVĚTADÍL

Jsme **Evropany**, spolu s občany dalších států žijeme ve světadílu zvaném **Evropa**.

Česká republika je **středoevropským státem**. Společně se sousedními státy **Slovenskem, Polskem, Německem a Rakouskem** tvoří střed Evropy.



Na mapě Evropy vyhledejte státy západní, východní, střední, jižní a severní Evropy.



Státy Evropy

Legenda k mapě:

- státy východní Evropy
- státy severní Evropy
- státy střední Evropy
- státy západní Evropy
- státy jižní Evropy

SL. – Slovinsko
 RUS – Ruská federace (Rusko)
 LUC. – Lucembursko

Pozn.: území států Kazachstán a Turecko zasahuje zčásti do Evropy a zčásti do Asie.

Obyvatelé Evropy využívají volný čas k poznávání jiných zemí a života jejich obyvatel.

Většina zemí Evropy usiluje o sjednocení a vytvoření jednotného **společenství evropských států – Evropskou unii** (zkratka **EU**). Díky rozšiřování EU má stále víc obyvatel Evropy možnost podle svého výběru cestovat, studovat nebo pracovat v evropské zemi, kterou si sami vyberou.

PS, str. 35

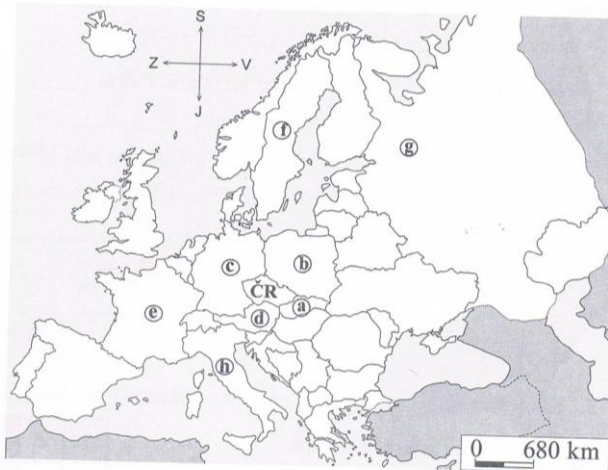
II. EVROPA – SJEDNOCUJÍCÍ SE SVĚTADÍL

1. a) Doplňte nebo vyberte jednu z možností. Pracujte s přílohovou mapou z učebnice.

Česká republika leží v (severní –
jižní – západní – východní – střední)
Evropě.

Státy:

- a _____
- b _____
- c _____
- d _____
- e _____
- f _____
- g _____
- h _____



- b) Označené státy vybarvěte: státy střeni Evropy zeleně, severní hnědě, jižní žlutě, západní oranžově, východní červeně.

6. Sousední státy (mapa, poloha)

II. EVROPA

1. Zakroužkuj správné odpovědi – písmena ti doplní tajenku:

Česká republika a její sousední státy
jsou státy střední

1) Mezi naše
sousední státy
nepatří:

- E) Maďarsko
- F) Slovensko
- G) Německo

4) Naším
sousedním státem
na východě je:

- O) Slovensko
- S) Rakousko
- T) Německo

2) Naším sousedním
státem na
severozápadě je:

- U) Rakousko
- V) Německo
- S) Slovensko

5) Naším sousedním
státem na
severovýchodě je:

- M) Německo
- N) Rakousko
- P) Polsko

3) Naším sousedním
státem na jihu je:

- O) Německo
- P) Polsko
- R) Rakousko

6) Nejkratší hranici
máme s (se):

- X) Německem
- Y) Slovenskem
- A) Polskem




4. Utvoř správné dvojice a spoj je čarami.

Česká republika
Slovensko
Německo
Polsko
Rakousko

Varšava
Berlín
Praha
Vídeň
Bratislava

2. Do mapy dopiš názvy států.



3. Poznáš mapy našich sousedních států? Dopíš k mapám názvy států a jejich hlavní města.





