

## SOUSEDNÍ STÁTY ČESKÉ REPUBLIKY

Česká republika sousedí se čtyřmi státy – Slovenskem, Polskem, Německem, Rakouskem.

### Slovenská republika (Slovensko) – hospodářské, kulturní a přátelské vztahy

Na východě Česká republika sousedí se Slovenskou republikou.

Slovenská republika, stejně jako Česká republika, vznikla **1. ledna 1993** po rozdělení Československa. Slovinci tak začali po tisíci letech znovu žít v samostatném státě.



Státní vlajka Slovenska

Se Slovenskem máme dlouholeté kulturní a hospodářské vazby, které se utvořily v letech, kdy jsme žili v jednom státě.

Na Slovensku se bez potíží dorozumíme česky. Mnoho Čechů dodnes žije na Slovensku a naopak mnoho Slovinců u nás.

**Obyvatelstvo:** Na Slovensku žije asi **5 milionů** obyvatel.

**Hlavní město:** Bratislava.

**Další velká města:** Košice, Banská Bystrica, Žilina, Nitra, Trenčín, Prešov.

**Povrch:** Území Slovenska je převážně hornaté. Většinu povrchu zaujímá pohoří **Karpaty**. V jeho části nazvané **Vysoké Tatry** leží nejvyšší hora Slovenska **Gerlachovský štít** (2655 m n. m). Nejvíce lidí žije v kotlinách pod horami a v nížinách na jihu a východě země.

**Vodstvo:** Podunajskou nížinou protéká řeka **Dunaj**, Slovensko opouští na hranicích s Maďarskem. Nejdélsí řekou je však **Váh**, na němž je vybudováno mnoho vodních elektráren.

**Zemědělství:** V nížinách se pěstují teplomilné rostliny (**kukuřice, pšenice, ovoce, zelenina**). Na horských loukách se pasou **ovce a krávy**. Na Slovensku je mnoho lesů, proto zde vznikl **dřevozpracující průmysl**.

**Průmysl:** V období po roce 1945 se Slovensko stalo průmyslově vyspělým státem s rozvinutým především **hutním** (Košice) a **chemickým** (Bratislava) průmyslem. Slovensko je členem NATO a EU.


#### Turistické cíle:

Turisté směřují nejčastěji do horských oblastí Slovenska. Nejvíce navštěvované jsou **Vysoké Tatry** a **Nízké Tatry**. Vyhledávaná jsou také města s historickými památkami: Bratislava, Košice, Nitra, Trenčín, Banská Štiavnica.

Na Slovensku je mnoho krásných zámků a hradů (např. **zámek Bojnice** nedaleko Prievidze a **Spišský hrad** poblíž Prešova).

Turisty vyhledávané jsou krasové oblasti **Slovenský kras** a **Demänovské jeskyně**.

Hodně navštěvované jsou slovenské **lázně s termálními prameny** (např. **Piešťany**, **Trenčianské Teplice**). Oblíbená je i rekreační oblast v okolí velké vodní nádrže **Zemplínská Šírava** ve Východoslovenské nížině.




Demänovská ledová jeskyně v Nízkých Tatrách



- Vyhledejte oblasti nížinné a hornaté. Vysvětlete, jaký je rozdíl v počasí těchto oblastí.
- Ukažte oblasti s největší a nejmenší hustotou obyvatelstva.
- Najděte pohoří Karpat na území Slovenska: Vysoké Tatry, Nízké Tatry, Malá Fatra, Velká Fatra.



**Bratislava** – hlavní město Slovenské republiky.  
(Městem protéká řeka Dunaj, nad městem se tyčí Bratislavský hrad.)



**Gerlachovský štít** (Vysoké Tatry) – nejvyšší hora na Slovensku.

**Už víme, že:**

Slovenská republika byla do roku 1993 součástí Československa. Od 1. ledna 1993 je Slovensko samostatným státem. Žije zde asi 5 milionů obyvatel mluvících slovensky. Území je většinou hornaté. Turisty lákají velehory Vysoké Tatry, ale také hlavní město Bratislava ležící v Podunajské nížině. Nejznámějšími řekami jsou Dunaj a Váh.



Navštivte cestovní kancelář a zjistěte, která místa na Slovensku Češi nejčastěji navštěvují. Udělejte si výstavku letáků, pohlednic a fotografií ze Slovenska. Pokud byl někdo na dovolené na Slovensku, může o svých zážitcích vyprávět ostatním spolužákům. Proč je asi na Slovensku tolik národních parků? Popište, která místa na Slovensku byste chtěli navštívit.



**Soutěž.** Uspořádejte si soutěž o znalostech Slovenska. (Např. Jak se jmenuje slovenský závod vyrábějící pohonné hmoty, které prodávají čerpací stanice stejného jména? Kdo byl Juraj Jánošík? Žijí ve slovenských horách medvědi a vlci? Hrají Slováci dobře hokej? Co jsou halušky s brynzou? Víte, co znamenají slova: ceruzka, čučoriedky, tava, korytnačka, jedáleň, parkovisko, izba?)

**Zopakujte si ve skupinách**

Následující otázky si rozdělte do skupin. Pokuste se zapsat odpověď bez pomoci mapy a textu učebnice. Své odpovědi přečtěte ostatním spolužákům a společně si pak ověřte jejich správnost.

1. skupina – Se kterými státy Slovenská republika sousedí?
2. skupina – Jaký dopravní význam má pro Slovensko řeka Dunaj?
3. skupina – Jak přírodní podmínky, zejména rozložení hor, ovlivnily rozmístění obyvatelstva Slovenska a zemědělskou výrobu?
4. skupina – Na která místa Slovenska přijíždí mnoho zahraničních návštěvníků? Vysvětlete proč?



**Zábavné luštění.** Pepa o prázdninách poslal Martinovi dopis s hádankou a vynechanými slovy. Šikovný Martin s pomocí mapy dopis doplnil a hádanku rozluštil. Dokážete to i vy?

Ahoj Martine, hádej, kde jsme s rodiči na dovolení?  
 Do země, která leží na východě, jsme přijeli přes hraniční přechod Mosty  
 v \_\_\_\_\_ a vracet se budeme přes \_\_\_\_\_ Krosenkov. Nejvíce se mi  
 líbilo ve městě, jehož název je ukrytý v následující skupině slov.  
 K O S I C E L E R \_\_\_\_\_ Nyní jsme v nejvyšší části K \_\_\_\_\_ A pod  
 horou která je o 1063 metrů vyšší než nejvyšší vrchol Kikonos. Musím  
 se řídit pokyny horské \_\_\_\_\_ a Správy národního parku, jehož  
 zkratka je TANAP.  
 Už víš, ve které zemi a ve kterých horách jsem?  
 Ahoj Pepa

# SLOVENSKO

1. Do mapy dopište názvy sousedních států a doplňte údaje, které jsou označeny písmeny nebo čísly.

Pracujte s učebnicí, str. 46.

Pohoří:

A \_\_\_\_\_

B \_\_\_\_\_

C \_\_\_\_\_

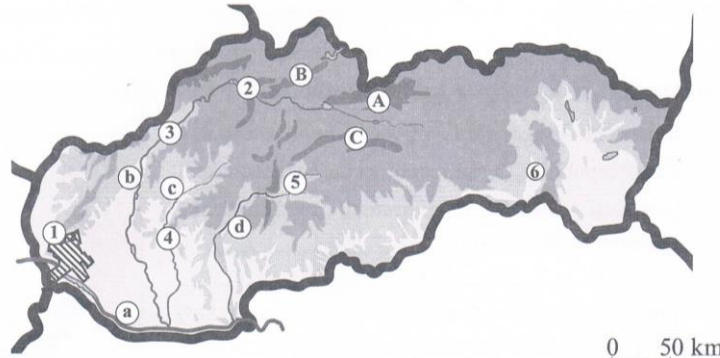
Řeky:

a \_\_\_\_\_

b \_\_\_\_\_

c \_\_\_\_\_

d \_\_\_\_\_



Města:

1 \_\_\_\_\_

2 \_\_\_\_\_

3 \_\_\_\_\_

4 \_\_\_\_\_

5 \_\_\_\_\_

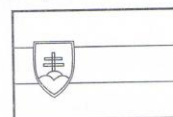
6 \_\_\_\_\_

**2. Doplňte, nebo vyberte jednu z možností.**

Pracujte s učebnicí, str. 46.

Slovensko vzniklo po rozdělení Československa dne \_\_\_\_\_ . Úředním jazykem je \_\_\_\_\_ .  
Hlavní město \_\_\_\_\_ leží na řece \_\_\_\_\_ .

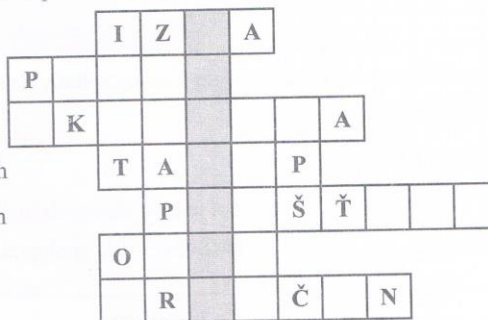
Vybarvěte vlajku Slovenské republiky:



Nejdelší řekou je \_\_\_\_\_ , na které leží např. města \_\_\_\_\_ a \_\_\_\_\_ . Velkými městy na východě Slovenska jsou např. \_\_\_\_\_ a \_\_\_\_\_ . Přehradní nádrž Zemplínská Šírava leží ve \_\_\_\_\_ nížině. Na jihu Slovenska se rozkládá \_\_\_\_\_ nížina, kde je (nejteplejší – nejchladnější) podnebí. (Větší – menší) část území Slovenské republiky je hornatá. Nejvyšší pohoří se nazývá \_\_\_\_\_ , nejvyšší horou je \_\_\_\_\_ . Rozvinutý je průmysl \_\_\_\_\_ a \_\_\_\_\_ . Zemědělství v nížinách se zabývá pěstováním \_\_\_\_\_ a v horských oblastech chovem \_\_\_\_\_ .

**3. Křížovka. V bodech 3, 5, 7, pracujte s mapou v učebnici, str. 46.**

1. Slovensky pokoj, místnost
2. Jezero na Slovensku
3. Východní soused Slovenska
4. Zkratka pro národní park v Tatrách
5. Známé lázeňské město na řece Váh
6. V horách se pasou
7. Město na řece Váh



**Tajenka:** \_\_\_\_\_ je jeden z nejznámějších slovenských zámků.

**4. Napište, která místa byste chtěli na Slovensku navštívit.**

---



---

**5. Doplňte, nebo vyberte jednu z možností.**

Slovensko je (západním – východním) sousedem České republiky. Česká republika má se Slovenskem (nejkratší – nejdelší) státní hranici. Česká republika společně se Slovenskem , \_\_\_\_\_ , \_\_\_\_\_ a \_\_\_\_\_ jsou státy (střední – východní) Evropy. Slovensko (leží ve vnitrozemí – je přímořským státem).



**Pro zvědavé:** \_\_\_\_\_

**Doplňte.** Pracujte s přílohovou mapou z učebnice.

Slovensko sousedí na severu s \_\_\_\_\_ , na jihu s \_\_\_\_\_ ,  
na východě s \_\_\_\_\_ a na západě s \_\_\_\_\_ .