



6 Vysvětli, co nám říká tato pranostika o jarním počasí:

BŘEZEN – ZA KAMNA VLEZEM,  
DUBEN – JEŠTĚ TAM BUDEM,  
MÁJ – VYŽENEME KOZY V HÁJ.

7 **W a** Nakresli Otu na jarní vycházce. Nezapomeň ztvárnit také typické jarní počasí a Otu vhodně obléknout. **b** Vybarvi oblečení, které Otovi vybereš.




8 Vylušti obě křížovky – v tajenkách najdeš odpovědi na hádanky.

Běhá to okolo chalupy,  
dělá to cupity, dupity.

Co to je?

Trochu voda, trochu zem, volá na tě:  
„Nechod' sem!“

Co to je?



2 O jarní rovnodennosti jsou den i noc stejně...



5 Prostřední jarní měsíc



8 Všechn sniž v nížinách na jaře...